

ВСЕРОССИЙСКАЯ ОЛИМПИАДА ШКОЛЬНИКОВ
ПО ИСТОРИИ 2018–2019 уч. г.
ШКОЛЬНЫЙ ЭТАП
7 класс

Уважаемый участник!

При выполнении заданий Вам предстоит выполнить определённую работу, которую лучше организовать следующим образом:

- внимательно прочитайте задание;
- если Вы отвечаете на теоретический вопрос или решаете ситуационную задачу, обдумайте и сформулируйте конкретный ответ (ответ должен быть кратким, его содержание следует вписать в отведённое поле; записи ведите чётко и разборчиво);
- при ответе на тестовые задания определите верный ответ и обведите кружком цифру(-ы), соответствующую(-ие) выбранному Вами ответу.

За каждый правильный ответ Вы можете получить определённое членами жюри количество баллов, не выше указанной максимальной оценки.

Сумма набранных баллов за все решённые вопросы – итог Вашей работы. Время для выполнения работы – 120 минут. Максимальное количество баллов – 100.

Задания считаются выполненными, если Вы вовремя сдали их членам жюри.

Желаем успеха!

1. В задании 1 дайте по одному верному ответу. Ответы внесите в таблицу.

1.1.Средневековые города возникали как поселения:

А) крестьян Б) священников В) воинов Г) ремесленников

1.2. Кто оставил об Индии эти записи?

«Тут есть Индийская страна, и люди ходят все нагие, а голова непокрыта, а волосы заплетены в одну косу. Детей родят каждый год, а детей у них много. А мужи и жены все черные. Куда я ни пойду – за мной людей много: дивятся белому человеку»

А) Н.Н. Миклухо-Маклай Б) Афанасий Никитин

В) В. Беринг Г) Владимир Атласов

1.3. С чьим именем связано присоединение Западной Сибири к русскому государству?

А) Хан Мамай

Б) Ермак Тимофеевич

В) Марфа Посадница

Г) Иван III

1.4. Крещение Руси произошло в:

а) 890 г. б) 988 г. в) 1115 г. г) 862 г.

1.5. Победы русских войск под руководством Александра Невского относятся к:

а) XX в.

б) XI в.

в) XIII в.

г) XIV в.

1.6. Первое упоминание о Москве относится к:

А) 1147г. Б) 1149г. В) 1153г Г) 1237г

1.7. Свод законов древней Руси назывался:

а) «Русская правда» б) Соборное Уложение в) «Стоглав» г) Судебник

1.8. Время перехода крестьян от одного владельца к другому, согласно Судебнику 1497 года, носило название:

а) Юрьева дня б) заповедных лет в) урочных лет г) отходничество

Ответ:

1.1	1.2	1.3	1.4	1.5	1.6	1.7	1.8

По 1 баллу за каждый верный ответ на задания 1.1–1.8. Всего за задания 8 баллов.

2. По какому принципу образованы ряды? Дайте краткий ответ. (Максимальный балл - 6)

1. 1. Закупы, рядовичи, смерды.

2. 2. 1478 г., 1485 г., 1514 г.

3. 3. Алексей Басманов, Малюта Скуратов, Афанасий Вяземский.

Ответ:

3. Прочитайте отрывок из работы современных историков. Укажите название города, пропущенное в тексте. (2 балла)

«С появлением в конце VI в. многочисленных воинственных гуннов, подчинивших себе другие племена кочевников, грабительские набеги участились. В V в. Иран начал строить на Восточном Кавказе и в Дагестане оборонительные сооружения. В VI в. в узком проходе между горами и Каспийским морем была сооружена огромная каменная оборонительная система. Она включала в себя город, названный _____ (в переводе с персидского «узел ворот»), и укрепленную линию из стен и башен».

А) Дербент В) Херсонес

Б) Сарай Г) Искоростень

В заданиях 4–6 выберите несколько верных ответов из предложенных. Ответы внесите в таблицу.

4. Какие из государств располагались на Пиренейском полуострове?

А) Эдесса Г) Моравия

Б) Кастилия Д) Антиохия

В) Арагон Е) Наварра

5. Какие из исторических деятелей были современниками Ивана Калиты?

А) Михаил Тверской Г) Андрей Боголюбский

Б) Юрий Долгорукий Д) Узбек

В) Евпатий Коловрат Е) Юрий Данилович

6. Какие из городов существовали в эпоху Древнерусского государства?

А) Архангельск Г) Тобольск

Б) Псков Д) Нижний Новгород

В) Чернигов Е) Ладога

Ответ:

4	5	6

Всего за задания 9 баллов.

7. Установите соответствие между средневековыми правителями и империями, которыми они управляли (по 1 баллу за каждый правильный ответ, всего – 4 балла):

- | | |
|------------------------------|--------------------|
| 1) Византийская империя | А) Карл Великий |
| 2) Священная римская империя | Б) Юстиниан I |
| 3) Каролингская империя | В) Оттон I Великий |
| 4) Османская империя | Г) Баязид I |

1	2	3	4

Какое из указанных государств позже других получило статус империи? (2 балла)

8. Прочтите приведённые ниже утверждения. Заполните таблицу, указав, согласны ли вы с ними или не согласны.

В Древней Руси господствовало натуральное хозяйство.

- 2) В результате Ливонской войны Россия потеряла Смоленск.
- 3) Иван III Великий был внуком Дмитрия Донского.
- 4) На Руси в XIII – XIV веках баскаками называли сборщиков дани.
- 5) При Дмитрии Донском главой русской церкви был митрополит.
- 6) Иван III и Василий III положили начало объединению русских земель вокруг Москвы.
- 7) Великое княжество Литовское было союзником Московской Руси в Куликовской битве.
- 8) При Ярославе Мудром был учрежден общерусский свод законов.
- 9) Иван Калита был сыном основателя Московского княжества.
- 10) Рюриковичи правили на Руси в течение семи столетий.

1	2	3	4	5	6	7	8	9	10

За каждый правильный ответ – 1 балл. Максимальный балл за задание – 10.

9. Расположите в хронологической последовательности (по времени) события, описанные в представленных ниже исторических источниках.

А) ... В тот год сказала дружина Игорю: "Отроки Свенельда изоделись оружием и одеждой, а мы наги. Пойдем, князь, с нами за данью, и себе добудешь, и нам". И послушал их Игорь - пошел к древлянам за данью и прибавил к прежней дани новую, и творили насилие над ними мужи его.

Б) ... и была у них усобица, и стали воевать друг с другом. И сказали себе: «Поищем себе князя, который бы владел нами и судил по праву». И пошли за море к варягам, к руси. ...

Сказали руси чудь, словене, кривичи и весь: «Земля наша велика и обильна, а порядка в ней нет. Приходите княжить и владеть нами».

В) Пошел Олег на греков ; взял же с собою множество варягов, и славян, и чуди, и кривичей, и мерю, и древлян, и радимичей, и полян, и северян, и вятичей, и хорватов, и дулебов, и тиверцев, известных как толмачи... И с этими всеми пошел Олег на конях и в кораблях... И пришел к Царьграду.

Г) Ольга с сыном Святославом собрала много храбрых воинов и пошла на Деревскую землю. И вышли древляне против нее. И когда сошлись оба войска для схватки, Святослав метнул копье в древлян, и копье пролетело между ушей коня и ударило коня по ногам, ибо был Святослав еще совсем мал.

Д) И стал Владимир княжить в Киеве один, и поставил кумиры на холме за теремным двором: деревянного Перуна с серебряной головой и золотыми усами, и Хорса, Дажьбога, и Стрибога, и Симаргла, и Мокошь. И приносили им жертвы, называя их богами, и приводили своих сыновей и дочерей, и приносили жертвы бесам, и оскверняли землю жертвоприношениями своими. И осквернилась кровью земля Русская и холм тот.

--	--	--	--	--

За полностью правильно составленную последовательность – **10 б.** Допущена ошибка (последовательность нарушена один раз) – **2 балла.**

10 . Какое из перечисленных понятий (имён, дат, событий) является лишним в данном ряду? Лишнее слово (словосочетание) зачеркните. Лишнее слово (словосочетание) напишите и объясните причину исключения (за правильное указание лишнего слова – по 1 баллу, за правильное объяснение еще по 1 баллу, всего – 8 баллов)


- 1) боярин, окольный, дьяк, тиун, холоп, огнищанин.
- 2) Ягайло, Батый, Тимучин, Тохтамыш, Мамай, Ахмат.
- 3) семибоярщина, крестоцеловальная запись, народное ополчение, опричное войско, восстание Ивана Болотникова, совет всей земли.
- 4) кафтан, армяк, береста, тулуп, косоворотка, зипун

Ответ: _____

11. Подпишите имена русских князей и расположите в хронологической последовательности их правления (по 2 балла за правильное указание имени князя и еще 2 балла за правильное указание хронологической последовательности, всего – 14 баллов):



A) _____



Б) _____




В) _____



Г) _____



Д) _____



Е) _____

Ответ:

1	2	3	4	5	6

(по 2 балла за правильное указание имени князя и еще 2 балла за правильное указание хронологической последовательности, всего – 14 баллов):

Максимальный балл за задание - (14 баллов)

12. . Прочитайте отрывки из исторических документов и ответьте на вопросы.

А) 27 мая, в субботу рано утром , открылся страшный мятеж: знатнейшие московские бояре, составив заговор, вломились во дворец, чтобы умертвить Дмитрия... Дмитрий, сведав о такой измене, бросился в комнаты своей супруги, рассказал ей о бунте и, дав совет, каким образом спасти себя, быстро побежал из одной комнаты в другую, наконец выскочил из окна на подмости, устроенные для свадебного празднества... но оступился и упал с ужасной высоты... Бояре же бросились на великого князя, избили его жестоко и неоднократно спрашивали, точно ли он сын Ивана Васильевича?

Б) По благословению и по совету святейшего Ермогена, патриарха Московского и Всея Руси, и митрополитов, и архиепископов... и по приговору бояр и дворян и дьяков думных и стольников и торговых людей и стрельцов и казаков и всех чинов служилых Московского государства мы ... приговорили на том: послати бити челом к великому государю к Жигмонту королю Польскому и великому князю литовскому, и к сыну его королевичу ко Владиславу Жигмантовичу, чтобы великий государь пожаловал, дал на все великие государства Российские сына своего Владислава королевича... Королевичу Владиславу, колико придет в царствующий град Москву, венчать на государство царским венцом по прежнему чину.

1. В какое время были написаны эти документы? _____
2. Как связаны между собой эти документы?

2. Почему пригласили на русский престол польского королевича?

(6 баллов)

13. Установите соответствие между историческими событиями и годами, когда эти события происходили. Ответы занесите в таблицу. (4 балла)

- | | |
|---------------------------------------|-------------|
| 1. Был страшный год, когда все страны | А. 1237 год |
| Боялись больше, чем огня, | Б. 1242 год |
| Батые – внука Чингисхана, | В. 1497 год |
| Свое соседство с ним кляня. | Г. 1147 год |
| | Д. 1328 год |

2. Позади остался дом
И тепло людское –
Впереди сверкало льдом
Озеро Чудское.

3. В этот памятный год
Москвичи неспроста
Дали прозвище князю:
Иван Калита.

4. Объединились города,
Был на Руси
Иваном третьим
Введён судебник для суда.

1	2	3	4

14. Отгадай шарadu (5 баллов)

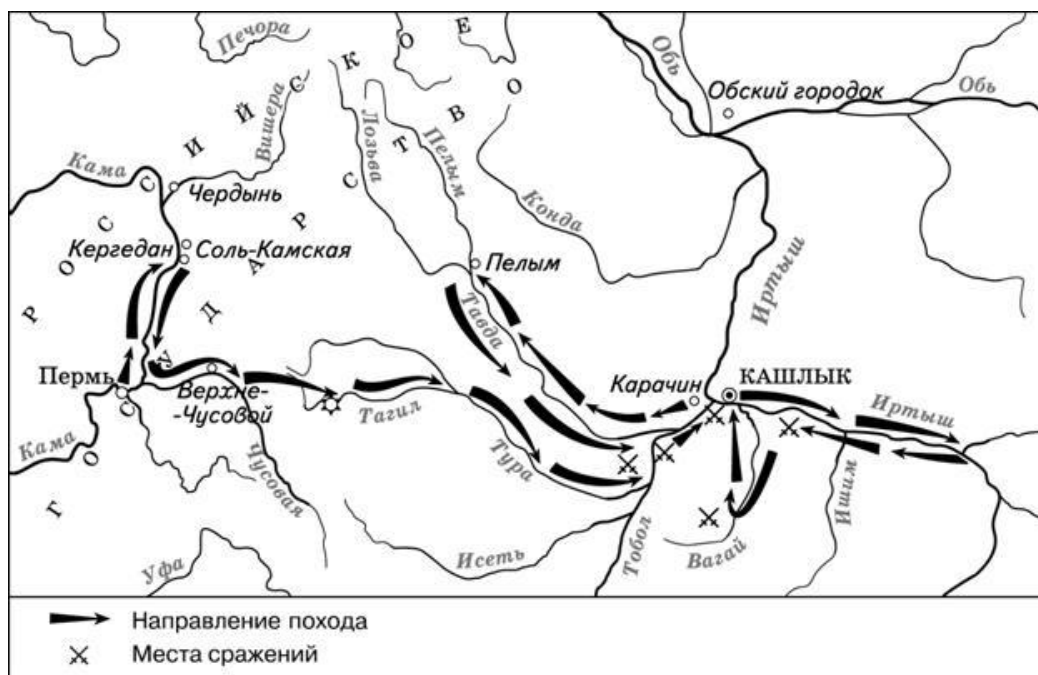
1. Если в названии физкультурного снаряда изменить одну букву , то получится состязание средневековых рыцарей.
2. Первый слог – кусок земли, второй – звук, который издает корова, третий – предлог, целое – свободный средневековый город.

3. Первый слог – звук смеха, второй – верхняя часть женского платья, целое – правитель стран Востока в средние века
4. Первый – начальная буква алфавита, второй – человек, не имеющий ни прав ни собственности, целое – коренной житель Аравии
5. Первый слог – небольшой ресторан, второй – русское национальное блюдо, третье – предлог, целое – одна из феодальных повинностей

Ответ:

1. _____
2. _____
3. _____
4. _____
5. _____

15. Рассмотрите схему и выполните задание.



15.1 Назовите исторического деятеля, под руководством которого был совершён поход по маршруту, представленному на схеме (2 балл).

15.2 Прочитайте отрывок из сочинения историка и выполните задания.

Из сочинения историка.

«На восточных окраинах Русского государства по рекам Каме и Чусовой находились земли, на которых по царскому пожалованию купцы Строгановы развивали земледелие, солеваренные, рыбные, охотничьи и рудные промыслы, строили города, крепости. Соседние земли – южная часть Западной Сибири и Приуралье – входили в те времена в **Сибирское** ханство, вобравшее в себя уголья оленеводов, охотников и рыболовов в низовьях реки Оби,

Иртыша и Приуралье, где издавна селились ненцы и манси. Терпя серьёзный ущерб от нападений сибирского хана Кучума и стремясь обезопасить свои земли от его вторжений, богатые русские купцы Строгановы нанесли упреждающий удар по неприятельской земле и сами выдвинулись на Уральские горы.

Для похода на средства купцов Строгановых был снаряжён большой отряд. В походе к Уральским горам приняли участие как военные отряды, которые и ранее находились на службе купеческого рода, так и специально набранные дополнительные силы из числа волжских казаков. Под руководством опытного казачьего атамана, передвигаясь большей частью по рекам, а местами волоком перетаскивая суда, отряду Строгановых удалось одержать ряд побед над вражескими племенами. Казаки разбили войско и взяли в плен главного воеводу сибирского Маметкула. Овладев столицей ханства и покорив весь край до Оби, атаман сообщил о своём успехе Строгановым. Одного же из своих сподвижников – атамана Ивана Кольцо – руководитель похода отправил с посольством в Москву известить царя о разгроме Сибирского ханства».

(10 баллов)

1. В первом абзаце отрывка найдите и запишите предложение, где названо событие, о последствиях которого сказано в тексте.
2. Назовите не менее двух фактов, приведённых в отрывке, которые явились последствием этого события.
3. Назовите казачьего атамана, о котором идёт речь в тексте.
4. Назовите царя, ко времени правления которого относятся описанные в отрывке события. (1 балл) (*Иван Грозный*)
5. Объясните взаимосвязь карты и отрывка сочинения историка.
6. Назовите не менее 5 географических названий встречающихся в тексте и на карте

Всего за 9 задание – 12 баллов

Максимум за работу 100 баллов.

